

Exercícios: Teor. de Gauss - Teor. de Stokes

- ① Calcule $\oint_C y dx + z dy + x dz$. C é a curva obtida como interseção do plano $x+y=2$ com a esfera $x^2+y^2+z^2=2(x+y)$

Solução

$$x^2+y^2+z^2=2(x+y) \Rightarrow (x-1)^2+(y-1)^2+z^2=2$$

(Esfera de raio $\sqrt{2}$ com centro no pto $(1,1,0)$)

$$x+y=2 \Rightarrow y=2-x$$

$$x^2+(2-x)^2+z^2=4 \Rightarrow 2x^2-4x+4+z^2=4$$

$$\Rightarrow 2(x^2-2x)+z^2=0 \Rightarrow 2(x-1)^2+z^2=2$$

$$\Rightarrow \left\{ (x-1)^2 + \frac{z^2}{2} = 1 \right\}$$

Elipse no plano XZ (y=0)



S : círculo de raio $\sqrt{2}$ com centro no pto $(1,1,0)$
 $\partial S = C$ contido no plano $x+y=2$

$$\vec{F} = y\vec{i} + z\vec{j} + x\vec{k} \Rightarrow \text{rot}(\vec{F}) = \det \begin{pmatrix} \vec{i} & \vec{j} & \vec{k} \\ \partial_x & \partial_y & \partial_z \\ y & z & x \end{pmatrix}$$

$$\text{orientando } S \text{ por } \vec{n} = \frac{1}{\sqrt{2}}(\vec{i} + \vec{j}) = -\vec{i} - \vec{j} - \vec{k}$$

obtemos

$$\oint_C \vec{F} \cdot d\vec{r} = \int_S \text{rot}(\vec{F}) \cdot \vec{n} \, ds = -\frac{2}{\sqrt{2}} \int_S ds = -\frac{2}{\sqrt{2}} \text{área}(S)$$

$$-\frac{2}{\sqrt{2}} \pi (\sqrt{2})^2 = -2\sqrt{2} \pi$$

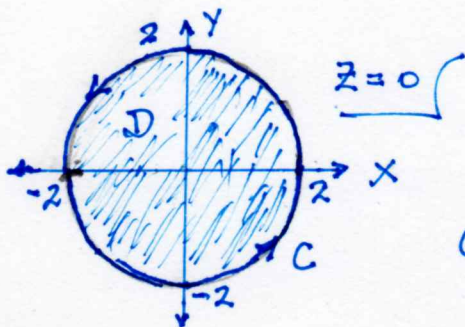
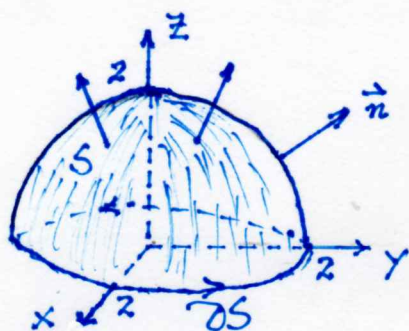
② Use o Teor. de Stokes para calcular

$$\int_S \text{rot}(\vec{F}) \cdot \vec{n} \, dS$$

onde $\vec{F} = x^2 e^{yz} \vec{i} + y^2 e^{x^2} \vec{j} + z^2 e^{xy} \vec{k}$

e S é a parte da esfera $x^2 + y^2 + z^2 = 4$ acima do plano xy , com normal \vec{n} apontando para fora.

Solução:



$$C: \begin{cases} z=0 \\ x^2 + y^2 = 4 \end{cases}$$

Pelo Teor. de Stokes: $\int_S \text{rot}(\vec{F}) \cdot \vec{n} \, dS = \int_{C=\partial S} \vec{F} \cdot d\vec{r}$

Note que, neste caso, \vec{F} é de classe C^1 e a orientação de ∂S é compatível com a orientação de S .

$$\int_C \vec{F} \cdot d\vec{r} = \int_C x^2 e^{yz} dx + y^2 e^{x^2} dy + z^2 e^{xy} dz \quad \text{Em } C, \quad z=0 \quad \therefore dz=0$$

$$= \int_C x^2 dx + y^2 e^{x^2} dy$$

$$= \int_D 2xy^2 e^{x^2} dx dy$$

$$\left\{ \begin{array}{l} P = x^2, \quad Q = y^2 e^{x^2} \\ \text{Teor. de Green:} \\ \int_C P dx + Q dy = \int_D \left(\frac{\partial Q}{\partial x} - \frac{\partial P}{\partial y} \right) dx dy \end{array} \right.$$

$f(x,y) = 2xy^2 e^{x^2}$ é ímpar na variável x $f(-x,y) = -f(x,y)$

D é simétrico c/n ao eixo Y . $\therefore \int_D f(x,y) dx dy = 0$

Dai $\int_C \vec{F} \cdot d\vec{r} = 0$ e logo $\int_S \text{rot}(\vec{F}) \cdot \vec{n} \, dS = 0$ \checkmark

3) Calcule $\int_C \vec{F} \cdot d\vec{r}$, onde $\vec{F} = (y^2 \cos x + z^3) \vec{i} + (2y \operatorname{sen} x - 4) \vec{j} + (3xz^2 + 2) \vec{k}$

e C é a hélice $\begin{cases} x = \cos t \\ y = \operatorname{sen} t \\ z = t \end{cases}, t \in [0, 2\pi]$

Solução:

$$\operatorname{rot}(\vec{F}) = \det \begin{pmatrix} \vec{i} & \vec{j} & \vec{k} \\ \partial_x & \partial_y & \partial_z \\ y^2 \cos x + z^3 & 2y \operatorname{sen} x - 4 & 3xz^2 + 2 \end{pmatrix}$$

$$= 0 \vec{i} - (3z^2 - 3z^2) \vec{j} + (2y \cos x - 2y \cos x) \vec{k}$$

$$= \vec{0}$$

$$\therefore \operatorname{rot}(\vec{F}) = \vec{0}$$

Observe que \vec{F} está definido em todo \mathbb{R}^3 que é um conjunto simplesmente conexo. Logo \vec{F} é conservativo.

Solução 1:

$$\vec{F} \text{ conservativo} \Rightarrow \exists f: \mathbb{R}^3 \rightarrow \mathbb{R} \text{ tal que } \nabla f = \vec{F} \text{ (Potencial de } \vec{F} \text{)}$$

$$\nabla f = \vec{F} \Rightarrow \begin{cases} \frac{\partial f}{\partial x} = y^2 \cos x + z^3 \\ \frac{\partial f}{\partial y} = 2y \operatorname{sen} x - 4 \\ \frac{\partial f}{\partial z} = 3xz^2 + 2 \end{cases} \quad \therefore f = y^2 \operatorname{sen} x + xz^3 - 4y + 2z$$

Teor. Fundamental do Cálculo para Integrais de Linha

$$\int_C \vec{F} \cdot d\vec{r} = f(\gamma(2\pi)) - f(\gamma(0))$$

onde $\gamma(t) = (\cos t, \operatorname{sen} t, t)$, $t \in [0, 2\pi]$ é uma param. da hélice.

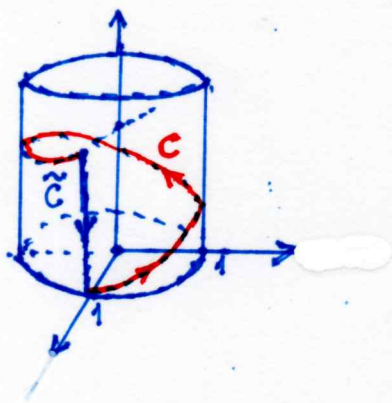
$$\gamma(2\pi) = (1, 0, 2\pi), \quad \gamma(0) = (1, 0, 0)$$

$$\therefore \int_C \vec{F} \cdot d\vec{r} = f(1, 0, 2\pi) - f(1, 0, 0) = (2\pi)^3 - 4\pi - 0 = 8\pi^3 - 4\pi$$

Solução 2 (Usando o Teor. de Stokes)

$$\int_{\partial S} \vec{F} \cdot d\vec{n} = \int_S \text{rot}(\vec{F}) \cdot \vec{n} dS.$$

A hélice C não é fronteira de nenhuma superf. S , mas...



Podemos pensar S como a parte do cilindro $x^2 + y^2 = 1$ limitada pelas curvas C e \tilde{C} , ou seja, $\partial S = C \cup \tilde{C}$ onde $\tilde{C}: \begin{cases} x=1 \\ y=0 \\ z=t \end{cases}, t \in [0, 2\pi]$

Dai

$$\int_{C \cup \tilde{C}} \vec{F} \cdot d\vec{n} = \int_S \text{rot} \vec{F} \cdot \vec{n} dS = 0$$

$$\begin{aligned} \therefore \int_C \vec{F} \cdot d\vec{n} &= - \int_{\tilde{C}} \vec{F} \cdot d\vec{n} = \int_{\tilde{C}^-} \vec{F} \cdot d\vec{n} \\ &= \int_0^{2\pi} t^3 \cdot 0 + (-4) \cdot 0 + (3t^2 + 2) dt \\ &= \int_0^{2\pi} (3t^2 + 2) dt = (t^3 + 2t) \Big|_0^{2\pi} \\ &= (2\pi)^3 - 2 \cdot 2\pi = 8\pi^3 - 4\pi \end{aligned}$$



- ④ Use o Teor de Stokes para calcular $\int_C \vec{F} \cdot d\vec{n}$, onde $\vec{F} = (2xyz - 2z)\vec{i} + (x^2 + 2x)\vec{j} + (x^2 + 2y)\vec{k}$, C é a circunf. $y^2 + z^2 = 1$, $x = 2$.

5/

Solução

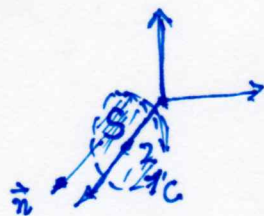
Stokes: $\int_{C=\partial S} \vec{F} \cdot d\vec{n} = \int_S \text{rot}(\vec{F}) \cdot \vec{n} \, dS$

$$\text{rot}(\vec{F}) = \det \begin{pmatrix} \vec{i} & \vec{j} & \vec{k} \\ \partial_x & \partial_y & \partial_z \\ 2xyz - 2z & x^2 + 2x & x^2 + 2y \end{pmatrix}$$

$$= (2 - 0)\vec{i} - (2x - 2xz)\vec{j} + (2x^2 - 2xz + 2)\vec{k}$$

$$= 2\vec{i} - 2x(1-z)\vec{j} + (2x^2 - 2xz + 4)\vec{k}$$

$$S: \begin{cases} x^2 + y^2 \leq 1 \\ x = 2 \end{cases}$$



$$\vec{n} = (1, 0, 0)$$

$$\text{rot}(\vec{F}) \cdot \vec{n} = 2$$

$$\therefore \int_S \text{rot}(\vec{F}) \cdot \vec{n} \, dS = \int_S 2 \, dS$$

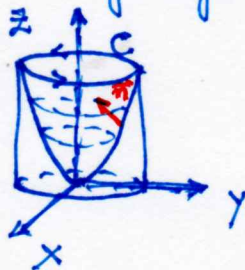
$$= 2 \text{área}(S) = 2\pi$$

- ⑤ Calcule $\int_S \text{rot}(\vec{F}) \cdot \vec{n} \, dS$, onde

S é a parte do parabolóide $z = x^2 + y^2$ que está dentro do cilindro $x^2 + y^2 = 4$, orientada "para cima"

$$\vec{F} = x^2 z^2 \vec{i} + y^2 z^2 \vec{j} + xyz \vec{k}$$

Solução



$$C: \begin{cases} x^2 + y^2 = 4 \\ z = 4 \end{cases}$$

$$\} C = \partial S \}$$

6/

Stokes : $\int_S \text{rot}(\vec{F}) \cdot \vec{n} \, dS = \int_{C=\partial S} \vec{F} \cdot d\vec{n}$

uma parametrização de C (no sentido anti-horário quando vista de cima) $\gamma(t) = (2\cos t, 2\sin t, 4) \quad t \in [0, 2\pi]$

$$\begin{aligned} \int_C \vec{F} \cdot d\vec{n} &= \int_0^{2\pi} [4\cos^2 t \cdot (-2\sin t) + 4\sin^2 t \cdot 16 \cdot 2\cos t + 0] dt \\ &= \int_0^{2\pi} (4\cos^2 t \cdot 16 \cdot (-2\sin t) + (4\sin^2 t \cdot 16 \cdot 2\cos t) + 0) dt \\ &= \int_0^{2\pi} (128 \cos^2 t \sin t + 128 \sin^2 t \cos t) dt \\ &= 128 \left(\frac{-1}{3} \cos^3 t \Big|_0^{2\pi} \right) + 128 \left(\frac{1}{3} \sin^3 t \Big|_0^{2\pi} \right) \\ &= 0 \end{aligned}$$

(b) Calcular $\int_C \vec{F} \cdot d\vec{n}$, onde

$$\vec{F} = (x^2 - y)\vec{i} + 4z\vec{j} + x^2\vec{k}$$

C é a curva interseção do plano $z=2$ com o cone $z = \sqrt{x^2 + y^2}$ orientada no sentido anti-horário quando vista de cima

Solução :



$$\int_{C=\partial S} \vec{F} \cdot d\vec{n} = \int_S \text{rot}(\vec{F}) \cdot \vec{n} \, dS$$

$$S : \begin{cases} z = 2 \\ x^2 + y^2 \leq 4 \end{cases} \quad \vec{n} = \vec{k}$$

$$\text{rot}(\vec{F}) = \det \begin{pmatrix} \vec{i} & \vec{j} & \vec{k} \\ \frac{\partial}{\partial x} & \frac{\partial}{\partial y} & \frac{\partial}{\partial z} \\ x^2 - y & 4z & x^2 \end{pmatrix} = 4\vec{i} - 2x\vec{j} + \vec{k}$$

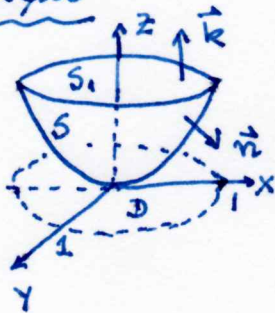
$$\text{rot}(\vec{F}) \cdot \vec{n} = 4 \quad \int_S \text{rot}(\vec{F}) \cdot \vec{n} \, dS = \int_S dS = \text{área}(S) = 4\pi$$

7
7
⑦ Calcule $\int_S \vec{F} \cdot \vec{n} \, dS$ onde

S é o gráfico de $f(x, y) = x^2 + y^2$ com $x^2 + y^2 \leq 1$ e \vec{n} normal a S t.q. $\vec{n} \cdot \vec{k} \leq 0$.

$$\vec{F} = x^2 y \vec{i} - xy^2 \vec{j} + \vec{k}$$

Solução



$$D: \begin{cases} z=0 \\ x^2+y^2 \leq 1 \end{cases}$$

$$S_1: \begin{cases} z=1 \\ x^2+y^2 \leq 1 \end{cases}$$

Teor. da Divergência

$$\int_{S=\partial W} \vec{F} \cdot \vec{n} \, dS = \int_W \operatorname{div}(\vec{F}) \, dV$$

Seja W o sólido t.q. $\partial W = S \cup S_1$. Pelo Teor. da divergência

$$\int_{S \cup S_1} \vec{F} \cdot \vec{n} \, dS = \int_W \operatorname{div}(\vec{F}) \, dV = \int_W (2xy - 2xy + 0) \, dV = 0$$

$$\therefore \int_S \vec{F} \cdot \vec{n} \, dS = - \int_{S_1} \vec{F} \cdot \vec{k} \, dS = - \int_{S_1} dS = -\text{área}(S_1) = -\pi$$

$$\therefore \int_S \vec{F} \cdot \vec{n} \, dS = -\pi$$

8/

8) Calcular, usando o Teor da divergência,

$$\int_S \vec{F} \cdot \vec{n} \, ds$$

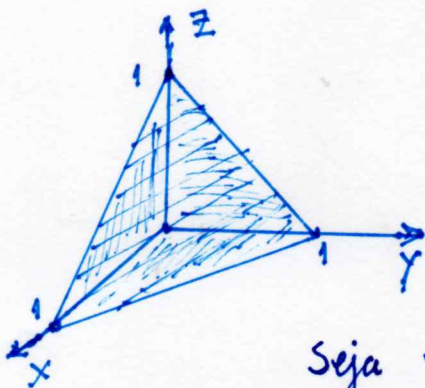
$$\vec{F} = y^3 e^z \vec{i} - xy \vec{j} + x \arctg(y) \vec{k}$$

S a superf. limitada pelos planos coord e pelo plano $x+y+z=1$

Solução:

Teor. da divergência
(Gauss)

$$\int_{S=\partial W} \vec{F} \cdot \vec{n} \, ds = \int_W \text{div}(\vec{F}) \, dV$$



$$\begin{aligned} \text{div}(\vec{F}) &= 0 - x + 0 \\ &= -x \end{aligned}$$

Seja W o sólido t.q. $\partial W = S$

$$W: \begin{cases} 0 \leq x \leq 1 \\ 0 \leq y \leq 1-x \\ 0 \leq z \leq 1-x-y \end{cases}$$

$$\begin{aligned} \therefore \int_S \vec{F} \cdot \vec{n} \, ds &= \int_W \text{div}(\vec{F}) \, dV = \int_0^1 \int_0^{1-x} \int_0^{1-x-y} -x \, dz \, dy \, dx \\ &= \int_0^1 \int_0^{1-x} -x(1-x-y) \, dy \, dx = \int_0^1 \int_0^{1-x} [-x(1-x) + xy] \, dy \, dx \\ &= \int_0^1 \left[-x(1-x)^2 + \frac{1}{2}x(1-x)^2 \right] dx \\ &= \int_0^1 -\frac{1}{2}x(1-x)^2 \, dx = -\frac{1}{2} \int_0^1 (x^3 - 2x^2 + x) \, dx \\ &= -\frac{1}{2} \left(\frac{1}{4} - \frac{2}{3} + \frac{1}{2} \right) = -\frac{1}{24} \end{aligned}$$